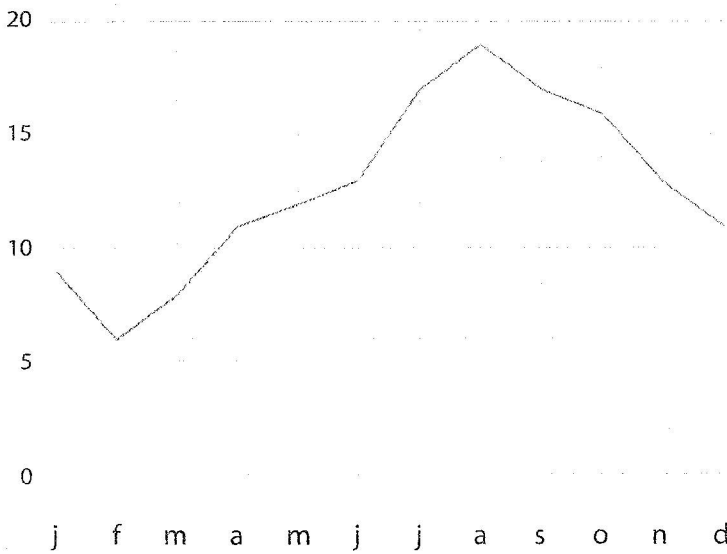



Schrijf de temperatuur van het Noordzeewater op.



januari °C juli °C
 februari °C augustus °C
 maart °C september °C
 april °C oktober °C
 mei °C november °C
 juni °C december °C

Trek een lijn van het plaatje naar het getal dat erbij hoort.





7

16

3,25

23



Vul de antwoorden in.

a Op 10 november gaat de zon op om 07.49 uur.

De zon gaat onder om 17.03 uur.

Teken de tijden op de klokken.

b De zeilwedstrijden zijn op de eerste en de laatste

woensdagmiddag in de maand november.

Welke data zijn dat? november en november.

c Het weerbericht duurt 5 minuten.

Het weerbericht wordt elke dag 12 keer uitgezonden.

Hoeveel minuten weerbericht hoor je in het weekend?

november

M	5	12	19	26
D	6	13	20	27
W	7	14	21	28
D	8	15	22	29
V	9	16	23	30
Z	10	17	24	
Z	11	18	25	